



Негосударственное частное образовательное учреждение
высшего образования
«Технический университет УГМК»

**МЕТОДИЧЕСКИЕ УКАЗАНИЯ К ВЫПОЛНЕНИЮ
КОНТРОЛЬНОЙ РАБОТЫ ПО ДИСЦИПЛИНЕ**

ПРИКЛАДНАЯ МЕХАНИКА

Специальность	<u>21.05.04 Горное дело</u>
Направленность (профиль)	<u>Подземная разработка рудных месторождений</u>
Уровень высшего образования	<u>Специалитет</u> <i>(бакалавриат, специалитет, магистратура)</i>

Автор - разработчик: Зубов В.В., канд. техн. наук, доцент

Рассмотрено на заседании кафедры механики и автоматизации технологических процессов и производств

Одобрено Методическим советом университета 30 июня 2021 г., протокол № 4

г. Верхняя Пышма
2021

Задания и методические указания к выполнению контрольной работы составлены в соответствии с рабочей программой дисциплины «**Прикладная механика**».

Контрольная работа является составной частью самостоятельной работы обучающихся дисциплине. Выполнение контрольных работ имеет целью закрепление обучающимися полученных на лекциях теоретических знаний и практического опыта, приобретенного на практических занятиях, путем самостоятельной работы.

Контрольные работы по дисциплине «**Прикладная механика**» выполняются студентами очной и заочной формы обучения после изучения материала по всему курсу.

Методические указания на выполнение контрольной работы

Контрольная работа представляет собой самостоятельное законченное исследование на заданную тему, свидетельствующее об умении работать с литературой, нормативной документацией, обобщать и анализировать фактический материал, используя теоретические знания и практические навыки, полученные при освоении профессиональной образовательной программы.

Содержания контрольных работ для обучающихся разрабатываются преподавателем с учетом конкретной темы и решаемых задач. Выполненная контрольная работа состоит из пояснительной записки с выбором и обоснованием параметров предлагаемой подземной геотехнологии и графической части, состоящей из листа формата А1 на котором представлены основные решения (схемы) по вскрытию, подготовке и освоению запасов подземной геотехнологией.

Структура контрольной работы:

1. Титульный лист.
2. Содержание.
3. Введение.
4. Основная часть.
5. Заключение.
6. Список используемой литературы.

Объем контрольной работы составляет 25-30 страниц.

Требования к содержанию.

Титульный лист является первым листом контрольной работы и служит источником информации, необходимой для обработки, хранения и поиска работы.

Содержание включает заголовки всех разделов, параграфов с указанием их наименования и номеров страниц.

Введение включает в себя вступительное слово, актуальность, степень изученности, цель, задачи и объект исследования.

Для начала требуется вступительное слово. Здесь нужно написать несколько вводных предложений, которые помогают нам войти в курс дела.

Актуальность. Здесь необходимо показать, насколько рассматриваемая тема актуальна, чем она важна человечеству.

Степень изученности. Тут несколькими словами описать историю изучения вашего вопроса, кто и когда проводил исследования, и какие результаты было получены.

Цель и задачи. Цель работы является собой то, ради чего вы проводите исследование. Зачастую ее формулируют как перефразированную тему. Задачи являются инструментом для достижения цели.

Объект исследования и материалы, с помощью которых выполнялась контрольная.

Основная часть контрольной работы состоит из четырех разделов.

В первом разделе необходимо произвести расчеты по определению балансовых запасов подземной геотехнологии, производительности и срока существования рудника.

Во втором должны быть представлены решения по вскрытию и подготовке запасов, определены основных параметры вскрытия и подготовки.

В третьем разделе представлены решения по очистной выемке запасов подземного яруса, выбрано оборудование и определены основные параметры выполнения основных производственных процессов.

В четвертом разделе должны быть представлены решения студента по вспомогательным производственным процессам (проветриванию, осушению).

В *заключении* излагаются теоретические и практические выводы, к которым пришёл студент в результате проведённой работы. Они должны быть краткими и чёткими. Пишутся выводы.

Список использованной литературы включает всю литературу, изученную автором работы. При написании контрольной работы должно использоваться не менее 10 источников литературы.

Правила оформления текстовой части

Общие сведения

Текстовая часть контрольной работы должна быть выполнена с использованием компьютера и принтера на одной стороне листа белой бумаги формата А4 через полтора интервала. Цвет шрифта должен быть черным, высота букв, цифр и других знаков – не менее 1,8 мм (кегель 12-14). Полужирный шрифт не применяется.

Текст работы следует печатать, соблюдая следующие размеры полей: правое – не менее 10 мм, верхнее и нижнее – не менее 20 мм, левое – не менее 30 мм.

Разрешается использовать компьютерные возможности акцентирования внимания на определенных терминах, применяя шрифты разной гарнитуры.

Страницы контрольной работы следует нумеровать арабскими цифрами, соблюдая сквозную нумерацию по всему тексту работы. Номер страницы проставляют в центре нижней части листа без точки. Иллюстрации, расположенные на отдельных листах, включают в общую нумерацию страниц.

Параграфы работы должны иметь порядковые номера, обозначенные арабскими цифрами без точек и записанные с абзацного отступа.

Заголовки подразделов следует печатать с абзацного отступа с прописной буквы без точки в конце, не подчеркивая. Переносы слов в заголовках не допускаются.

Расстояние между заголовком и текстом должно быть равно удвоенному межстрочному расстоянию; между заголовками разделов и подразделов – одному межстрочному интервалу.

Иллюстрации. Количество иллюстраций, помещаемых в тексте КР, должно быть достаточным для раскрытия содержания. Иллюстрации следует располагать непосредственно после текста, в котором они упоминаются впервые, или на следующей странице. Иллюстрации должны быть в компьютерном исполнении.

Все иллюстрации именуется в тексте рисунками и нумеруются в пределах каждого раздела.

На все иллюстрации должны быть ссылки в тексте. При ссылках на иллюстрации следует писать «в соответствии с рисунком 1.1».

Иллюстрации должны иметь наименование, например, «Рисунок 1.1 – Кристаллическая структура пирита».

Ссылки. В тексте КР должны быть ссылки на иллюстрации, использованные источники информации и т.д. Ссылка в тексте на иллюстрации и приложения оформляются по типу: «(таблица 1.1)», «(рисунок 1.2)», «(приложение А)». При ссылке в тексте на использованные источники информации следует приводить порядковые номера по списку использованных источников, заключенные в квадратные скобки, например: «...как указано в монографии [1]...».

Приложения. Приложение оформляется как продолжение текстовой части КР. Каждое приложение должно начинаться с нового листа, иметь тематический заголовок и обозначение. Слово «ПРИЛОЖЕНИЕ» и его буквенное обозначение (А, Б, В...) располагают наверху посередине страницы, а под ним в скобках указывают статус приложения, например: «(рекомендованное)», «(справочное)», «(обязательное)».

Список используемой литературы оформляется по ГОСТу 7.05-2008 «Библиографическая ссылка. Общие требования и правила составления».

Задание на контрольную работу

Задание КП-1.

Спроектировать привод ленточного транспортера.
Данные для расчетов взять из табл.КП-1.

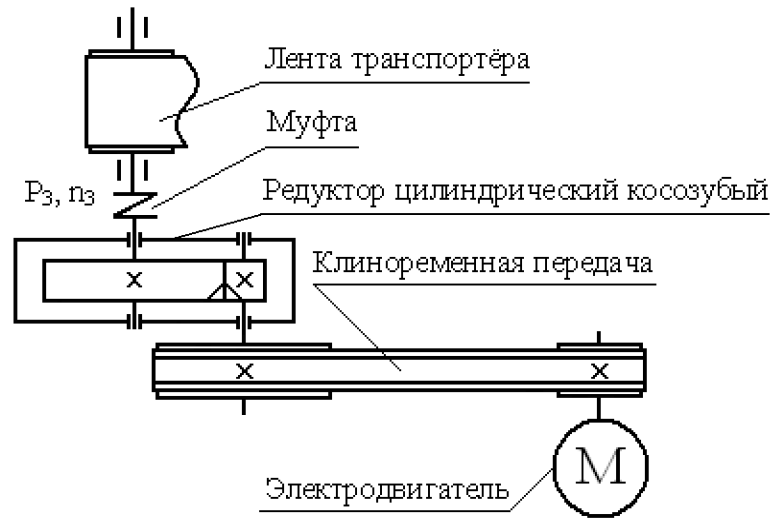


Рис. КП-1. Схема привода ленточного транспортера

Таблица КП-1

Величина	Вариант									
	1	2	3	4	5	6	7	8	9	10
Мощность на ведомом валу $P_3, \text{кВт}$	4	5	6	7	8	7	6	5	4	3
Частота вращения ведомого вала $n_3, \text{об/мин}$	70	65	60	90	60	75	90	60	55	60
Коэффициент годового использования $K_{\text{год}}$	0,8	0,7	0,8	0,7	0,8	0,7	0,8	0,7	0,8	0,7
Коэффициент суточного использования $K_{\text{сут}}$	0,35	0,72	0,90	0,35	0,72	0,90	0,35	0,72	0,90	0,35
Срок службы $T, \text{лет}$	7					8				

Задание КП-2

Спроектировать привод цепного конвейера
 Данные для расчетов взять из табл.КП-2.

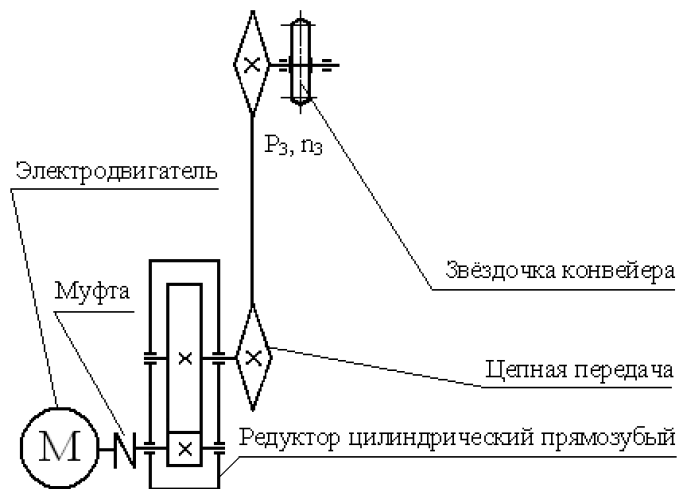


Рис. КП-2. Схема привода цепного конвейера

Таблица КП-2

Величина	Вариант									
	1	2	3	4	5	6	7	8	9	10
Мощность на ведомом валу P_3 , кВт	3,0	3,7	4,5	5,5	6,8	8	9,6	7,7	8,5	7,5
Частота вращения ведомого вала N_3 , об/мин	145	130	120	110	100	90	80	74	68	92
Коэффициент годового использования $K_{год}$	0,7	0,8	0,7	0,8	0,7	0,8	0,7	0,8	0,7	0,8
Коэффициент суточного использования $K_{сут}$	0,90	0,35	0,72	0,90	0,35	0,72	0,90	0,35	0,72	0,90
Срок службы T , лет	6					5				

Задание КП-3.

Спроектировать привод ленточного транспортера
 Данные для расчетов взять из табл.КП-3.

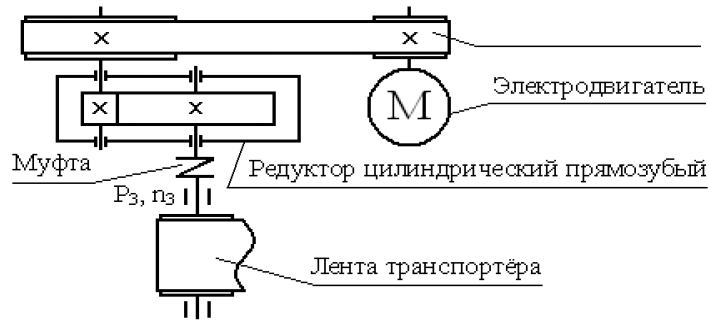


Рис. КП-3. Схема привода ленточного транспортера

Таблица КП-3

Величина	Вариант									
	1	2	3	4	5	6	7	8	9	10
Мощность на ведомом валу P_3 , кВт	3,0	4,0	5,0	4,5	3,2	5,3	6,0	2,8	3,6	7,0
Частота вращения ведомого вала N_3 , об/мин	60	75	70	75	90	120	105	55	60	75
Коэффициент годового использования $K_{год}$	0,8	0,7	0,8	0,7	0,8	0,7	0,8	0,7	0,8	0,7
Коэффициент суточного использования $K_{сут}$	0,72	0,90	0,35	0,72	0,90	0,35	0,72	0,90	0,35	0,72
Срок службы T , лет	7					6				

Задание КП-4.

Спроектировать привод цепного конвейера
 Данные для расчетов взять из табл.КП-4.

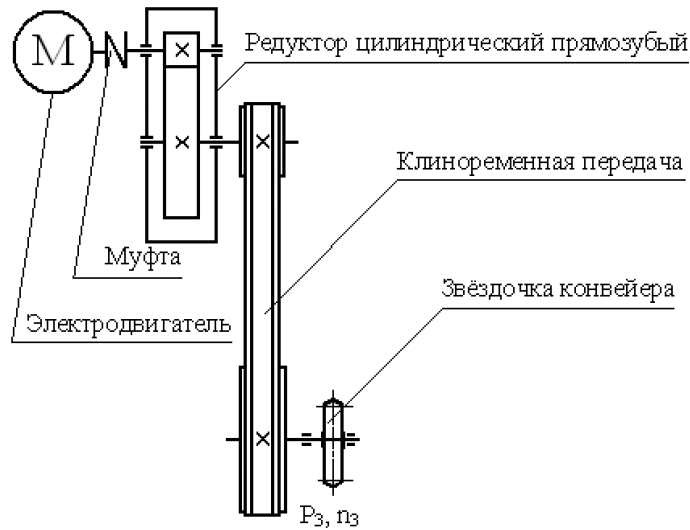


Рис. КП-4. Схема привода цепного конвейера

Таблица КП-4

Величина	Вариант									
	1	2	3	4	5	6	7	8	9	10
Мощность на ведомом валу P_3 , кВт	5,8	8,7	10,5	3,8	5,2	5,8	8,7	9,5	10,5	5,8
Частота вращения ведомого вала N_3 , об/мин	60	40	50	60	80	100	75	100	110	200
Коэффициент годового использования $K_{год}$	0,7	0,8	0,7	0,8	0,7	0,8	0,7	0,8	0,7	0,8
Коэффициент суточного использования $K_{сут}$	0,35	0,72	0,90	0,35	0,72	0,90	0,35	0,72	0,90	0,35
Срок службы T , лет	5					7				

Задание КП-5.

Спроектировать привод ленточного транспортера
 Данные для расчетов взять из табл.КП-5.

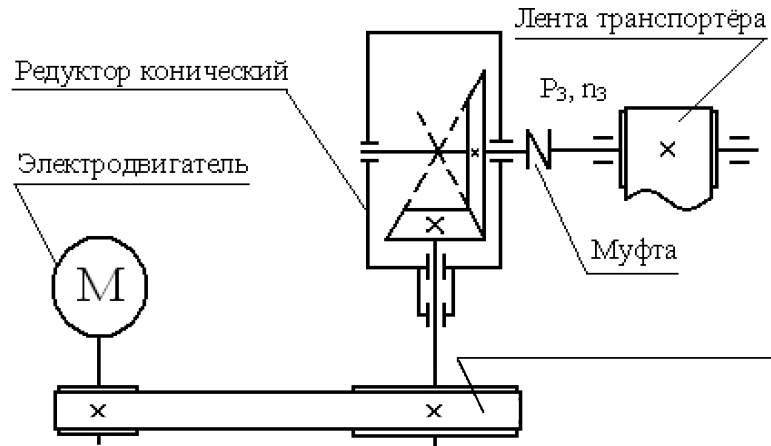


Рис. КП-5. Схема привода ленточного транспортера

Таблица КП-5

Величина	Вариант									
	1	2	3	4	5	6	7	8	9	10
Мощность на ведомом валу P_3 , кВт	1,8	3,1	5,2	5,8	6,4	7,3	8,7	9,5	11	8
Частота вращения ведомого вала n_3 , об/мин	50	55	60	63	70	75	90	110	120	130
Коэффициент годового использования $K_{год}$	0,8	0,7	0,8	0,7	0,8	0,7	0,8	0,7	0,8	0,7
Коэффициент суточного использования $K_{сут}$	0,90	0,35	0,72	0,90	0,35	0,72	0,90	0,35	0,72	0,90
Срок службы T , лет	5					6				

Задание КП-6.

Спроектировать привод цепного конвейера
 Данные для расчетов взять из табл.КП-6.

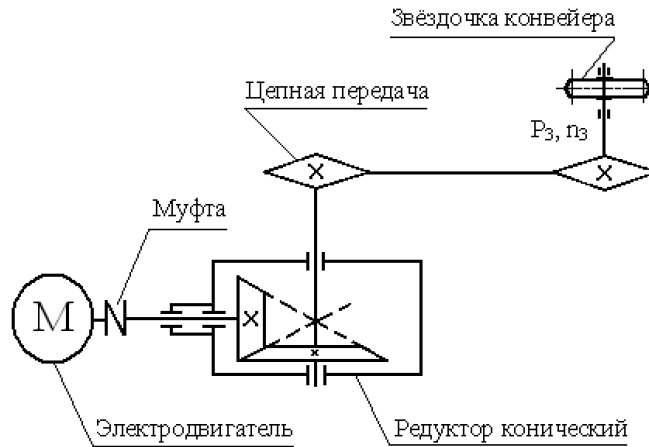


Рис.КП-6. Схема привода цепного конвейера

Таблица КП-6

Величина	Вариант									
	1	2	3	4	5	6	7	8	9	10
Мощность на ведомом валу P_3 , кВт	6,4	5,8	5,2	3,1	1,8	2,8	3,1	5,2	5,8	10,5
Частота вращения ведомого вала N_3 , об/мин	60	65	70	80	90	100	120	110	100	200
Коэффициент годового использования $K_{год}$	0,7	0,8	0,7	0,8	0,7	0,8	0,7	0,8	0,7	0,8
Коэффициент суточного использования $K_{сут}$	0,72	0,90	0,35	0,72	0,90	0,35	0,72	0,90	0,35	0,72
Срок службы T , лет	7					6				

Задание КП-7.

Спроектировать привод ленточного транспортера
 Данные для расчетов взять из табл.КП-7.

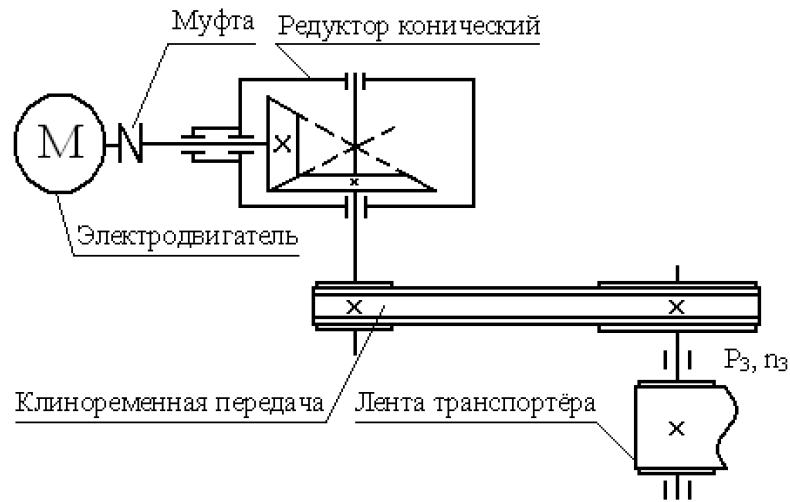


Рис. КП-7. Схема привода ленточного транспортера

Таблица КП-7

Величина	Вариант									
	1	2	3	4	5	6	7	8	9	10
Мощность на ведомом валу P_3 , кВт	2	3	4	5	6	7	6	5	4	3
Частота вращения ведомого вала n_3 , об/мин	50	45	60	40	70	80	90	100	110	120
Коэффициент годового использования $K_{год}$	0,8	0,7	0,8	0,7	0,8	0,7	0,8	0,7	0,8	0,7
Коэффициент суточного использования $K_{сут}$	0,35	0,72	0,90	0,35	0,72	0,90	0,35	0,72	0,90	0,35
Срок службы T , лет	8					7				

Задание КП-8.

Спроектировать привод цепного конвейера
 Данные для расчетов взять из табл.КП-8.

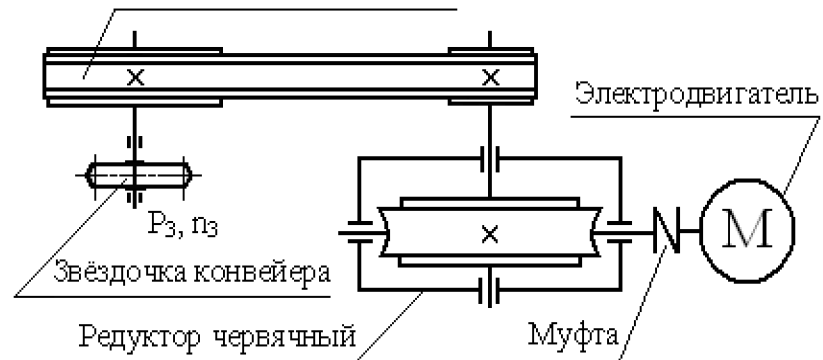


Рис. КП-8. Схема привода цепного конвейера

Таблица КП-8

Величина	Вариант									
	1	2	3	4	5	6	7	8	9	10
Мощность на ведомом валу P_3 , кВт	3,2	3,8	4,5	5,0	6,2	7,1	4,6	3,0	7,0	6,1
Частота вращения ведомого вала n_3 , об/мин	60	70	80	90	100	90	80	60	50	40
Коэффициент годового использования $K_{год}$	0,7	0,8	0,7	0,8	0,7	0,8	0,7	0,8	0,7	0,8
Коэффициент суточного использования $K_{сут}$	0,90	0,35	0,72	0,90	0,35	0,72	0,90	0,35	0,72	0,90
Срок службы T , лет	6					8				

Задание КП-9.

Спроектировать привод ленточного транспортера
 Данные для расчетов взять из табл.КП-9.

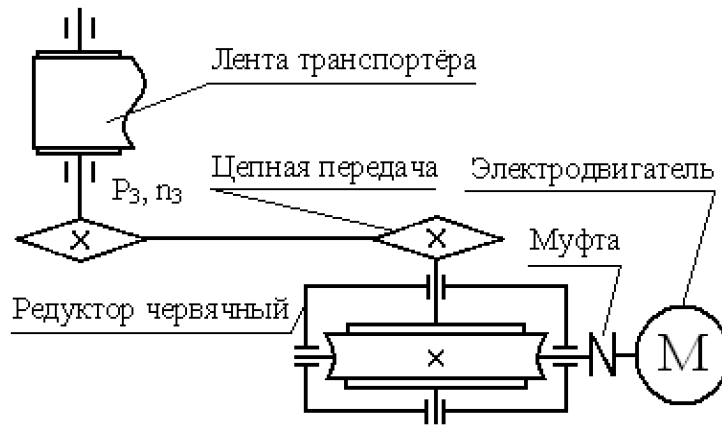


Рис. КП-9. Схема привода ленточного транспортера

Таблица КП-9

Величина	Вариант									
	1	2	3	4	5	6	7	8	9	10
Мощность на ведомом валу P_3 , кВт	3	4	5	4,5	4	5,5	7	5,5	3	4
Частота вращения ведомого вала n_3 , об/мин	50	60	55	70	80	85	90	100	85	80
Коэффициент годового использования $K_{год}$	0,8	0,7	0,8	0,7	0,8	0,7	0,8	0,7	0,8	0,7
Коэффициент суточного использования $K_{сут}$	0,72	0,90	0,35	0,72	0,90	0,35	0,72	0,90	0,35	0,72
Срок службы T , лет	5					7				

Задание КП-10.

Спроектировать привод цепного конвейера
 Данные для расчетов взять из табл.КП-10.

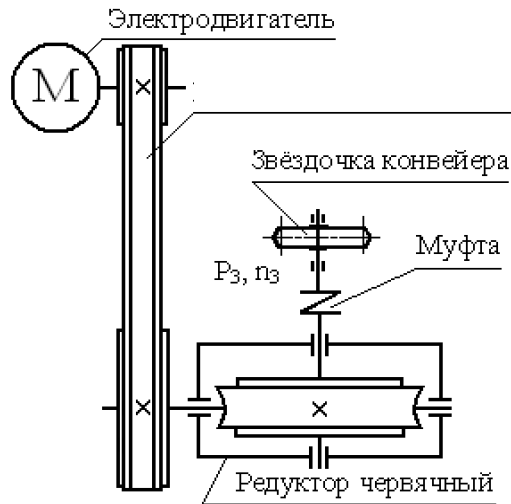


Рис. КП-10. Схема привода цепного конвейера

Таблица КП-10

Величина	Вариант									
	1	2	3	4	5	6	7	8	9	10
Мощность на ведомом валу P_3 , кВт	3	5	7	10	13	3	5	7	10	13
Частота вращения ведомого вала n_3 , об/мин	20	30	25	15	30	40	45	50	40	50
Коэффициент годового использования $K_{год}$	0,7	0,8	0,7	0,8	0,7	0,8	0,7	0,8	0,7	0,8
Коэффициент суточного использования $K_{сут}$	0,72	0,35	0,90	0,72	0,35	0,90	0,72	0,35	0,90	0,72
Срок службы T , лет	7					5				